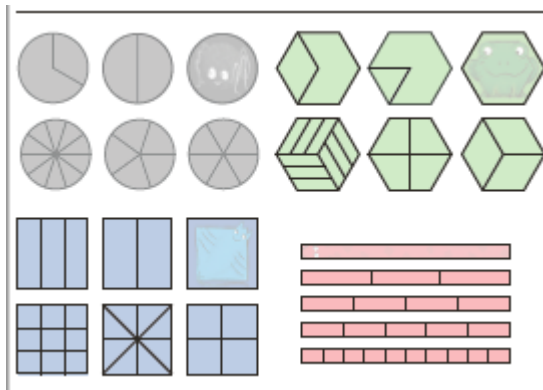






















Pour chacune des potions, vous ne disposez que des plaques du jeu (rappelée ci-contre).

Vous pouvez bien sûr utiliser les plaques mises en ligne la semaine S14.

Pour chacune des potions, répondre aux questions posées



<p>Potion n°48</p> <p>$\frac{1}{9}$ </p> <p>$\frac{3}{10}$ </p> <p>$\frac{1}{2}$ </p> <p>1 </p> <p>V8.1</p>	<p>Potion n°35</p> <p>$\frac{3}{3}$ </p> <p>$\frac{1}{8}$ </p> <p>$\frac{2}{4}$ </p> <p>$\frac{1}{2}$ </p> <p>V8.1</p>	<p>Potion n°37</p> <p>$\frac{2}{6}$ </p> <p>$\frac{1}{3}$ </p> <p>$\frac{5}{6}$ </p> <p>$\frac{3}{3}$ </p> <p>V8.1</p>
<p>Potion n°41</p> <p>$\frac{2}{6}$ </p> <p>$\frac{1}{3}$ </p> <p>$\frac{4}{9}$ </p> <p>$\frac{1}{2}$ </p> <p>V8.1</p>	<p>Potion n°16</p> <p>3 neuvièmes </p> <p>$\frac{2}{8}$ </p> <p>$\frac{1}{6}$ </p> <p>Trois dixièmes </p> <p>V8.1</p>	

Questions :

- Potion 48 : Comment est-on arrivé à $\frac{1}{2}$ de grenouille alors que sur la plaque il n'y a que des quarts ?
Quelle égalité peut-on écrire ?
- Potion 35 : Quelle remarque faire sur l'araignée et sur la grenouille ? Quelles égalités peut-on écrire ?
- Potion 37 : Comment est-on arrivé à $\frac{2}{6}$ de raie alors qu'il n'y a pas de part « $\frac{1}{6}$ » ?
Quelle égalité peut-on écrire ?
- Potion 41 : Comment est-on arrivé à $\frac{2}{6}$ de serpent alors qu'il n'y a pas de part « $\frac{1}{6}$ » ?
- Potion 16 : Quelle remarque peut-on faire pour la raie ? Aurait-on pu remplacer $\frac{2}{8}$ par une autre pièce ?