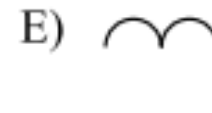
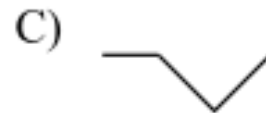
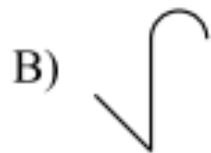
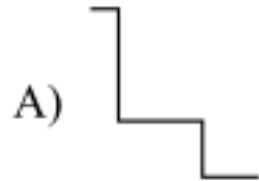


Question de la semaine n°6:

On voit au loin la silhouette d'un château.



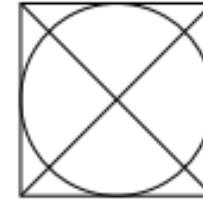
Lequel de ces morceaux n'en fait pas partie ?



Réponse à la question de la semaine n°5 :

Quelle forme n'apparaît pas dans cette figure ?

- A) cercle
- B) carré
- C) triangle rectangle
- D) triangle isocèle
- E) triangle équilatéral



Réponse E.
Triangle équilatéral.